



fichas de Trabajo

1^{ro}

PRIMARIA

MATEMÁTICA

MONEDAS

Estas son mis monedas



S/. 200



S/. 20



S/. 100



S/. 10



S/. 50



10
Céntimos



20
Céntimos



50
Céntimos



Un nuevo
Sol
S/. 1



2 Soles



5 Soles

Sería conveniente decir que aunque al comprar decimos soles, en realidad nuestra moneda es Nuevo sol


¿Cuánto DINERO TIENE CADA niño?



Yo tengo una moneda de 50 céntimos, otra de 20 céntimos y otra de 10 céntimos

$$\square + \square + \square = \square \text{ céntimos}$$

Ricardo tiene _____ céntimos



Yo tengo una moneda de 5 soles, otra de 1sol y otra de 2 soles

$$\square + \square + \square = \square \text{ soles}$$

Luisa tiene _____ soles

¿ Cuánto dinero hay en cada bandeja?



$$50 + \square + \square + \square = \square$$



$$\square + \square + \square + \square + \square = \square$$



$$\square + \square + \square + \square = \square$$



Practica en clase

1

Rodea la cantidad que se indica:

30 soles



15 soles



70 céntimos



28 soles



2


Resuelve:

Yo tengo 19
soles nuevos

Javier

Yo tengo 19
soles nuevos

Diego

Yo tengo 20
soles más
que Diego

Ursula



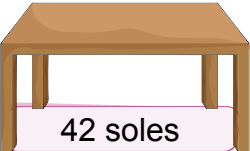





¿Cuántos soles tiene Diego?

¿Cuántos soles tiene Ursula?

¿Cuántos soles tiene los 3 juntos?

3

Completa:

Compro	Pago con	Me devuelven									
 14 soles		<table border="1"> <tr> <td>1</td> <td>5</td> <td>-</td> </tr> <tr> <td></td> <td></td> <td></td> </tr> <tr> <td></td> <td></td> <td></td> </tr> </table>	1	5	-						
1	5	-									
 42 soles		<table border="1"> <tr> <td></td> <td></td> <td>-</td> </tr> <tr> <td></td> <td></td> <td></td> </tr> <tr> <td></td> <td></td> <td></td> </tr> </table>			-						
		-									
 51 soles		<table border="1"> <tr> <td></td> <td></td> <td>-</td> </tr> <tr> <td></td> <td></td> <td></td> </tr> <tr> <td></td> <td></td> <td></td> </tr> </table>			-						
		-									
 65 soles		<table border="1"> <tr> <td></td> <td></td> <td>-</td> </tr> <tr> <td></td> <td></td> <td></td> </tr> <tr> <td></td> <td></td> <td></td> </tr> </table>			-						
		-									

